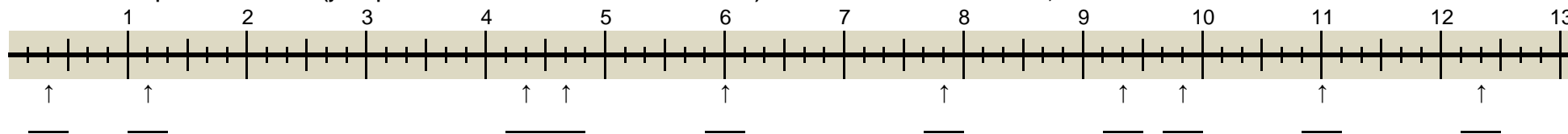


Les fractions

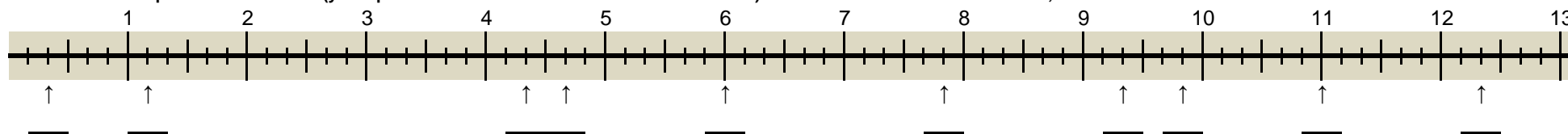
A Ecris sous chaque flèche la fraction (y compris sous la forme d'un entier + une fraction < 1). Dans le cas de fractions décimales, écris aussi le nombre décimal.

Fiche 228



A Ecris sous chaque flèche la fraction (y compris sous la forme d'un entier + une fraction < 1). Dans le cas de fractions décimales, écris aussi le nombre décimal.

Fiche 228



A Ecris sous chaque flèche la fraction (y compris sous la forme d'un entier + une fraction < 1). Dans le cas de fractions décimales, écris aussi le nombre décimal.

Fiche 228



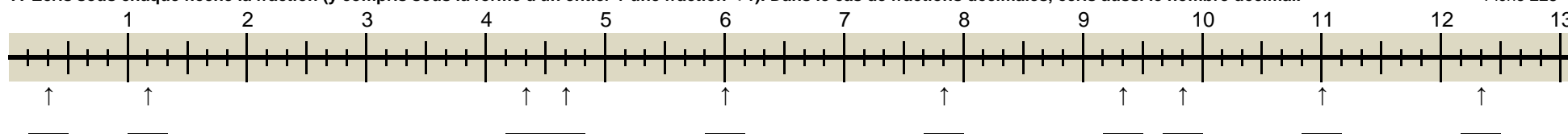
A Ecris sous chaque flèche la fraction (y compris sous la forme d'un entier + une fraction < 1). Dans le cas de fractions décimales, écris aussi le nombre décimal.

Fiche 228



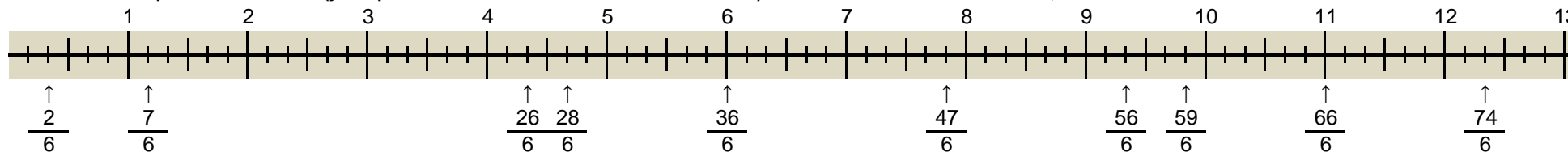
A Ecris sous chaque flèche la fraction (y compris sous la forme d'un entier + une fraction < 1). Dans le cas de fractions décimales, écris aussi le nombre décimal.

Fiche 228



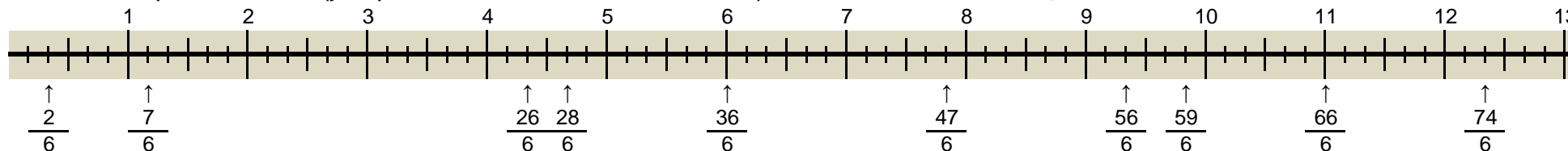
A Ecris sous chaque flèche la fraction (y compris sous la forme d'un entier + une fraction < 1). Dans le cas de fractions décimales, écris aussi le nombre décimal.

Fiche 228



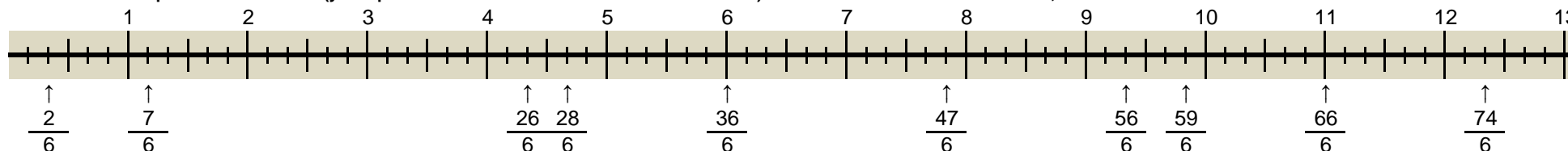
A Ecris sous chaque flèche la fraction (y compris sous la forme d'un entier + une fraction < 1). Dans le cas de fractions décimales, écris aussi le nombre décimal.

Fiche 228



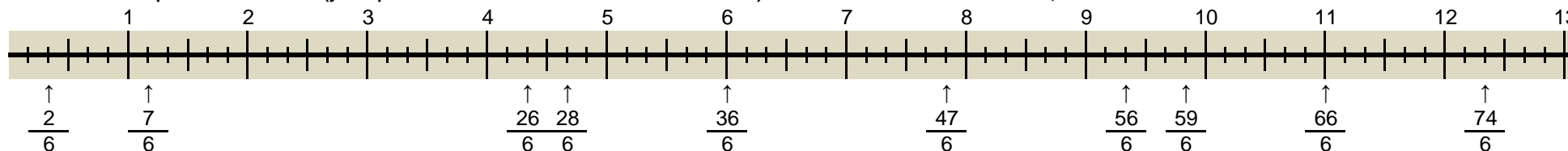
A Ecris sous chaque flèche la fraction (y compris sous la forme d'un entier + une fraction < 1). Dans le cas de fractions décimales, écris aussi le nombre décimal.

Fiche 228



A Ecris sous chaque flèche la fraction (y compris sous la forme d'un entier + une fraction < 1). Dans le cas de fractions décimales, écris aussi le nombre décimal.

Fiche 228



A Ecris sous chaque flèche la fraction (y compris sous la forme d'un entier + une fraction < 1). Dans le cas de fractions décimales, écris aussi le nombre décimal.

Fiche 228

