

A Ecris sous chaque flèche la fraction (y compris sous la forme d'un entier + une fraction  $< 1$ ). Dans le cas de fractions décimales, écris aussi le nombre décimal. Fiche 652

Number line from 1 to 15. Arrows point to 1, 6, 7, 8, 9, 10, 11, 12, 13, and 15. Below each arrow is a blank line for writing.

A Ecris sous chaque flèche la fraction (y compris sous la forme d'un entier + une fraction  $< 1$ ). Dans le cas de fractions décimales, écris aussi le nombre décimal. Fiche 652

Number line from 1 to 15. Arrows point to 1, 6, 7, 8, 9, 10, 11, 12, 13, and 15. Below each arrow is a blank line for writing.

A Ecris sous chaque flèche la fraction (y compris sous la forme d'un entier + une fraction  $< 1$ ). Dans le cas de fractions décimales, écris aussi le nombre décimal. Fiche 652

Number line from 1 to 15. Arrows point to 1, 6, 7, 8, 9, 10, 11, 12, 13, and 15. Below each arrow is a blank line for writing.

A Ecris sous chaque flèche la fraction (y compris sous la forme d'un entier + une fraction  $< 1$ ). Dans le cas de fractions décimales, écris aussi le nombre décimal. Fiche 652

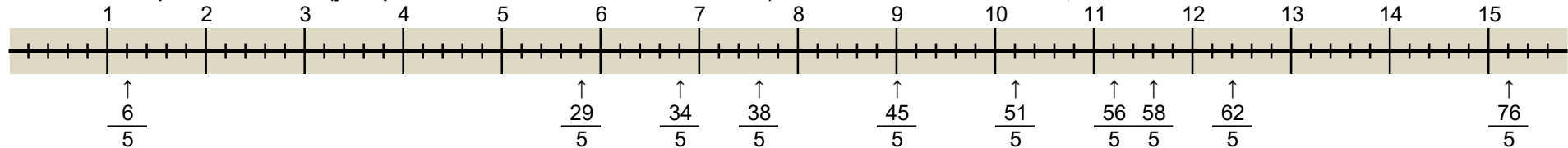
Number line from 1 to 15. Arrows point to 1, 6, 7, 8, 9, 10, 11, 12, 13, and 15. Below each arrow is a blank line for writing.

A Ecris sous chaque flèche la fraction (y compris sous la forme d'un entier + une fraction  $< 1$ ). Dans le cas de fractions décimales, écris aussi le nombre décimal. Fiche 652

Number line from 1 to 15. Arrows point to 1, 6, 7, 8, 9, 10, 11, 12, 13, and 15. Below each arrow is a blank line for writing.

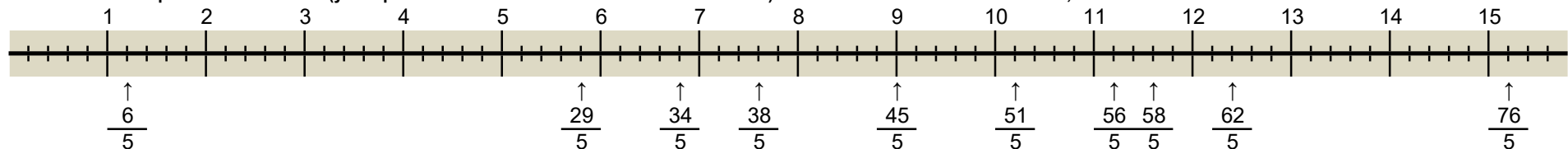
A Ecris sous chaque flèche la fraction (y compris sous la forme d'un entier + une fraction < 1). Dans le cas de fractions décimales, écris aussi le nombre décimal.

Fiche 652



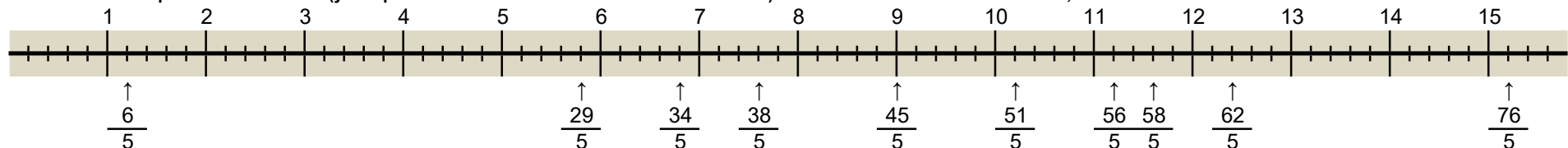
A Ecris sous chaque flèche la fraction (y compris sous la forme d'un entier + une fraction < 1). Dans le cas de fractions décimales, écris aussi le nombre décimal.

Fiche 652



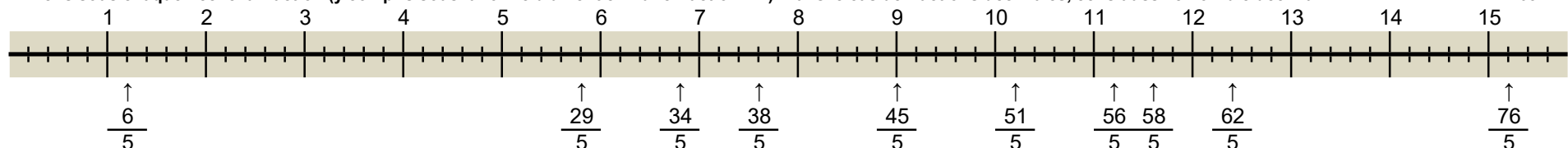
A Ecris sous chaque flèche la fraction (y compris sous la forme d'un entier + une fraction < 1). Dans le cas de fractions décimales, écris aussi le nombre décimal.

Fiche 652



A Ecris sous chaque flèche la fraction (y compris sous la forme d'un entier + une fraction < 1). Dans le cas de fractions décimales, écris aussi le nombre décimal.

Fiche 652



A Ecris sous chaque flèche la fraction (y compris sous la forme d'un entier + une fraction < 1). Dans le cas de fractions décimales, écris aussi le nombre décimal.

Fiche 652

